


① 考生要写清校名、姓名和班级
② 不在试卷上做任何标识
③ 字迹要清楚，卷面要整洁

姓 名

班 级

学 校

考 号



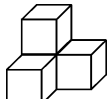

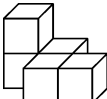
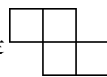
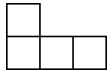



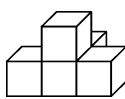
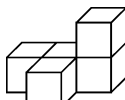
第二单元综合测试卷

——观察物体(二)


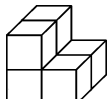


(时间:90 分钟 满分:100 分+10 分)

题号	一	二	三	四	五	六	七	八	总分	附加题
得分										


一 我会填。(每空 2 分,共 22 分)

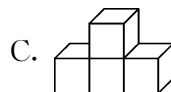
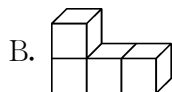
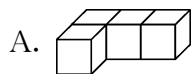
1.  是由()个正方体搭成的,从()面看到的图形是 .
2. 观察 ,从()面看到的图形是 ,从()面看到的图形是 ,从()面看到的图形是 .
3. 用 3 个同样的正方体摆成一个物体,从这个物体的前面看到的图形是 ,从()面看到的图形是 .
4.  从()面看到的形状与从()面看到的形状是相同的。
5.  观察左图,从前面看到的是(),从左面看到的是(),从上面看到的是()。

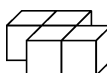
二 我会判断。(对的在括号里打“√”,错的打“×”)(8 分)

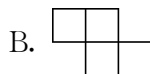
1. 从一个立体图形的各个方向看,看到的形状一定不相同。()
2. 观察由 5 个小正方体搭成的几何体时,不可能看到 。()
3.  从左面和上面看到的形状相同。()
4. 从前面看立体图形 ,得到的平面图形是 。()

三 我会选。(将正确答案的序号填在括号里)(10 分)

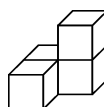
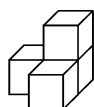
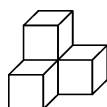
1. 从前面看到的是  的是()。



2.  从左面看到的图形是()。



3. 下面 3 个物体,从()面看到的形状相同。

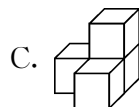
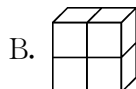


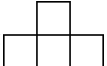

A. 上

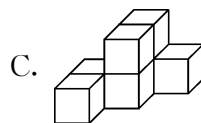
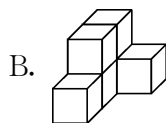
B. 左

C. 前

4. 从上面、左面、前面看到的形状都一样的是()。

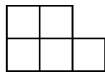
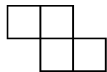
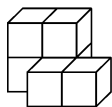


5. 一个物体,从前面看到的图形是 , 从左面看到的图形是 。下面的 3 个物体,符合要求的是()。



四 下面各图分别是 从哪个方向观察得到的? 连一连。(12 分)

1.

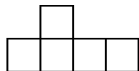
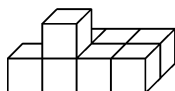


从前面看

从上面看

从左面看

2.

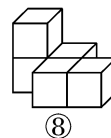
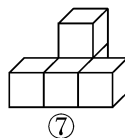
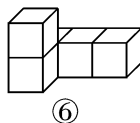
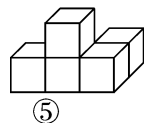
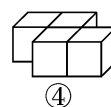
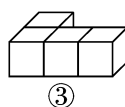
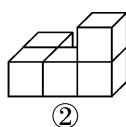
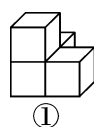


从左面看

从上面看


从前面看

五 看图分一分。(填序号)(10 分)




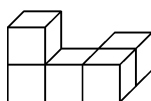
1. 从前面看是  的有() ; 是  的有()。

2. 从左面看是  的有() ; 是  的有()。

3. 从上面看是  的有()。


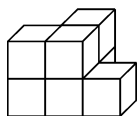
六 画出下面物体从前面、上面、左面看到的图形。(18 分)

1.




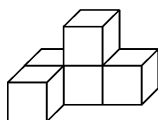
前面 上面 左面

2.



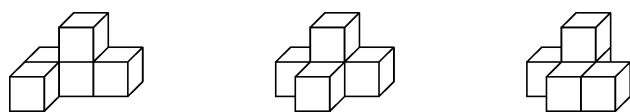
前面 上面 左面

3.

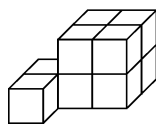


前面 上面 左面

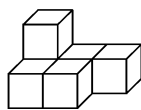
七 下面 3 个物体,从哪面看到的形状相同? 从哪面看到的形状不同? (8 分)



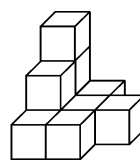
八 数一数,下面的图形分别是由多少个小立方体搭成的? (12 分)



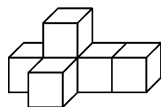
() 个



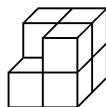
() 个



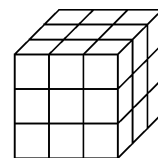
() 个



() 个



() 个



() 个

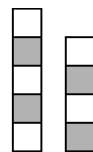


智力冲浪(附加题)

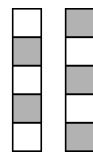
桌子上面有一些叠起来的积木,积木分黑、白两色,从上面、左面和前面观察这些积木,看到的形状如下图。一共有多少个积木? (10 分)



上面



左面



前面